



โจทย์ปัญหาเกี่ยวกับ  
การหารอขละหรือเปอร์เซ็นต์



วิชา คณิตศาสตร์



ชั้นประถมศึกษาปีที่ 6



โดย ครูชญชนก เนตรดวง

- 
- 
1. มีดินสอ 25 แท่ง เป็นดินสอสีแดง 12 แท่ง ดินสอสีแดงคิดเป็นร้อยละเท่าใดของดินสอทั้งหมด
- 
- 
- 
- 

2. ร้านยาใจทำขนมปังสังขยาไว้ 60 กล่อง มีลูกค้าสั่งซื้อ 90 กล่อง  
ขนมปังสังขยาที่ลูกค้าสั่งซื้อคิดเป็นกี่เปอร์เซ็นต์ของขนมปังสังขยาที่ทำไว้

3. พ่อค้ามีมะพร้าว 2,500 ผล ขายไป 750 ผล พ่อค้าขายมะพร้าวไป ร้อยละเท่าใดของมะพร้าวทั้งหมด



4. ข้อสอบฉบับหนึ่งมีคะแนนเต็ม 80 คะแนน ตันกล้าได้ 60 คะแนน แก้วตาได้ 42 คะแนน คะแนนของแก้วตาคิดเป็นกี่เปอร์เซ็นต์ของคะแนนของตันกล้า





5. โรงงานแห่งหนึ่งมีพนักงาน 140 คน เป็นพนักงานชาย 42 คน  
พนักงานชายคิดเป็นร้อยละเท่าใดของพนักงานทั้งหมด



6. พ่อขับรถใช้น้ำมันไป 24 ลิตร จากน้ำมันทั้งหมดที่มีอยู่ในถัง 60 ลิตร  
พ่อใช้น้ำมันคิดเป็นกี่เปอร์เซ็นต์ของน้ำมันทั้งหมด






7. ลุงเลี้ยงไก่ตัวผู้ 18 ตัว ไก่ตัวเมีย 120 ตัว เป็ดตัวเมีย 40 ตัว และเป็ดตัวผู้ 8 ตัว





- 1) ไก่ตัวผู้คิดเป็นกี่เปอร์เซ็นต์ของไก่ตัวเมีย
- 2) เป็ดตัวเมียคิดเป็นร้อยละเท่าใดของเป็ดตัวผู้



# แบบฝึกหัด 4.2

หน้า 113 - 114



โจทย์ปัญหาเกี่ยวกับการหารอผล  
หรือเปอร์เซ็นต์ที่มากกว่า 1 ขั้นตอน

วิชา คณิตศาสตร์

ชั้นประถมศึกษาปีที่ 6

โดย ครูชญชนก เนตรดวง

- 
- 
1. นักเรียน 200 คน เป็นชาย 126 คน  
นักเรียนหญิงคิดเป็นร้อยละเท่าใดของนักเรียนทั้งหมด
- 
- 
- 
- 



2. เมื่อวานแม่ค้าขายน้ำหวานได้ 180 แก้ว วันนี้ขายได้ 135 แก้ว  
วันนี้แม่ค้าขายน้ำหวานลดลงจากเมื่อวานร้อยละเท่าใด





3. ทิวทำงานประจำที่บริษัทแห่งหนึ่ง เขาออมเงิน เดือนละ 1,800 บาท เงินเดือนที่เหลือทั้งหมด 13,200 บาท เป็นค่าใช้จ่ายในครอบครัว ทิวออมเงินคิดเป็นกี่เปอร์เซ็นต์ของเงินเดือนที่ได้รับ

- 
- 
4. ปีที่แล้วฝนตก 560 มิลลิเมตร ปีนี้ฝนตก 1,316 มิลลิเมตร ปริมาณน้ำาฝนของปีนี้เพิ่มขึ้นจากปีที่แล้วร้อยละเท่าใด
- 
- 
- 
- 

5. พ่อปล่อยยลูกปลาในบ่อ 2,100 ตัว เป็นลูกปลานิล 1,250 ตัว  
ที่เหลือเป็นลูกปลาทับทิม จำนวนลูกปลาทับทิมคิดเป็นกี่เปอร์เซ็นต์  
ของจำนวนลูกปลานิล

# แบบฝึกหัด 4.3

หน้า 115 - 116





โจทย์ปัญหาารอชละ  
เกี่ยวกับการซื้อขาย

วิชา คณิตศาสตร์






ชั้นประถมศึกษาปีที่ 6

โดย ครูชญชนก เนตรดวง





ทบทวน

1. กำไรร้อยละ 10 หมายความว่าอย่างไร
  2. ขาดทุน 25% หมายความว่าอย่างไร
  3. ลดราคา 32% ของราคาที่ติดไว้ หมายความว่าอย่างไร
- 
- 
- 
- 
- 

- 
- 
1. ถ้าทุนของสินค้าชิ้นหนึ่งเป็น 868 บาท ร้านค้าขายได้ 1,085 บาท  
ร้านค้าได้กำไรกี่เปอร์เซ็นต์
- 
- 
- 
- 



2. ถ้าทุนของสินค้าชิ้นหนึ่งเป็น 800 บาท ร้านค้าขายได้ 688 บาท  
ร้านค้าขาดทุนกี่เปอร์เซ็นต์






3. ร้านค้าติดราคาสินค้า 950 บาท ขายให้ลูกค้า 760 บาท  
ร้านค้าลดราคากี่เปอร์เซ็นต์




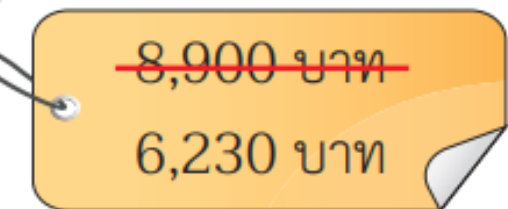
4. ร้านค้าลงทุนซื้อเสื้อตัวหนึ่งราคา 720 บาท ขายไป 972 บาท  
ร้านค้าขายเสื้อตัวนี้ได้กำไรร้อยละเท่าใด



5. ออมสินขายหมวกให้ขุน 900 บาท ถ้าออมสินซื้อหมวกใบนี้ราคา 1,200 บาท ออมสินขาดทุนกี่เปอร์เซ็นต์




6. ร้านค้าติดราคานาฬิกาไว้ 8,900 บาท แต่ขายให้ลูกค้า 6,230 บาท  
ร้านค้าลดราคากี่เปอร์เซ็นต์



แบบฝึกหัด 4.4

หน้า 117 - 118

π



โจทย์ปัญหาร้อยละเกี่ยวกับการหาทุนหรือราคาซื้อ  
เมื่อกำหนดกำไรหรือขาดทุนเป็นร้อยละหรือเปอร์เซ็นต์

วิชา คณิตศาสตร์

ชั้นประถมศึกษาปีที่ 6

โดย ครูชญชนก เนตรดวง

โจทย์ปัญหาร้อยละเกี่ยวกับการหาทุนหรือราคาซื้อ เมื่อกำหนดกำไรหรือขาดทุนเป็นร้อยละหรือเปอร์เซ็นต์

1. ร้านค้าขายรองเท้าคู่หนึ่งราคา 1,560 บาท ได้กำไร 30%  
ร้านค้าซื้อรองเท้าคู่นี้มาราคาเท่าใด




โจทย์ปัญหาร้อยละเกี่ยวกับการหาทุนหรือราคาซื้อ เมื่อกำหนดกำไรหรือขาดทุนเป็นร้อยละหรือเปอร์เซ็นต์

2. ร้านค้าประกาศลดราคากระเป๋า 20% จอชซื้อกระเป๋าราคา 992 บาท  
ร้านค้าตีตราขายกระเป๋าใบนี้เท่าใด



โจทย์ปัญหาร้อยละเกี่ยวกับการหาทุนหรือราคาซื้อ เมื่อกำหนดกำไรหรือขาดทุนเป็นร้อยละหรือเปอร์เซ็นต์

3. ภิรมย์ขายเก้าอี้ให้ตัวราคา 2,660 บาท ขาดทุน 24%  
ภิรมย์ซื้อเก้าอี้ตัวนี้มาราคาเท่าใด



โจทย์ปัญหาร้อยละเกี่ยวกับการหาทุนหรือราคาซื้อ เมื่อกำหนดกำไรหรือขาดทุนเป็นร้อยละหรือเปอร์เซ็นต์

4. ร้านค้าขายชุดรับแขกราคา 4,500 บาท ได้กำไร 25%  
ร้านค้าซื้อชุดรับแขกชุดนี้ราคาเท่าใด

โจทย์ปัญหาร้อยละเกี่ยวกับการหาทุนหรือราคาซื้อ เมื่อกำหนดกำไรหรือขาดทุนเป็นร้อยละหรือเปอร์เซ็นต์

5. ร้านเครื่องเขียนติดป้ายลดราคาดินสอสี 30% บอสนซื้อดินสอสี 1 กล่อง  
ราคา 238 บาท ร้านเครื่องเขียนติดราคาดินสอสีกล่องนี้เท่าใด

โจทย์ปัญหาร้อยละเกี่ยวกับการหาทุนหรือราคาซื้อ เมื่อกำหนดกำไรหรือขาดทุนเป็นร้อยละหรือเปอร์เซ็นต์

6. บুমขายลำโพงคู่หนึ่งให้ป้างราคา 3,400 บาท ขาดทุน 20%  
บুমซื้อลำโพงคู่นี้ราคาเท่าใด

แบบฝึกหัด 4.5

หน้า 119 - 120

π

