



ความสัมพันธ์ของ
การบวกและการลบ

ความสัมพันธ์ของการบวกและการลบ



2x



ตัวนับสีน้ำเงิน 6 อัน | ตัวนับสีแดง 4 อัน

รวมมีตัวนับทั้งหมด $6 + 4 = \dots\dots\dots$ อัน

ความสัมพันธ์ของการบวกและการลบ



2x




ตัวนับสีน้ำเงิน 6 อัน | ตัวนับสีแดง 4 อัน

รวมมีตัวนับทั้งหมด $6 + 4 = \dots 10 \dots$ อัน

$10 - 6 = \dots \dots$ อัน

ความสัมพันธ์ของการบวกและการลบ



2x



ตัวนับสีน้ำเงิน 6 อัน | ตัวนับสีแดง 4 อัน

รวมมีตัวนับทั้งหมด $6 + 4 = \dots 10 \dots$ อัน

$$10 - 6 = \dots 4 \dots \text{อัน}$$

$$10 - 4 = \dots \dots \text{อัน}$$


ความสัมพันธ์ของการบวกและการลบ



ตัวนับสีส้ม 12 อัน | ตัวนับสีชมพู 5 อัน

รวมมีตัวนับทั้งหมด $12 + 5 = \dots\dots\dots$ อัน

ความสัมพันธ์ของการบวกและการลบ



ตัวนับสีส้ม 12 อัน | ตัวนับสีชมพู 5 อัน

รวมมีตัวนับทั้งหมด $12 + 5 = \dots 17 \dots$ อัน

$17 - 12 = \dots \dots$ อัน

ความสัมพันธ์ของการบวกและการลบ



ตัวนับสีส้ม 12 อัน | ตัวนับสีชมพู 5 อัน

รวมมีตัวนับทั้งหมด $12 + 5 = \dots 17 \dots$ อัน

$$17 - 12 = \dots 5 \dots \text{อัน}$$

$$17 - 5 = \dots \dots \dots \text{อัน}$$

ความสัมพันธ์ของการบวกและการลบ



ตัวนับสีส้ม 12 อัน | ตัวนับสีชมพู 5 อัน

รวมมีตัวนับทั้งหมด $12 + 5 = \dots 17 \dots$ อัน

$$17 - 12 = \dots 5 \dots \text{อัน}$$

$$17 - 5 = \dots 12 \dots \text{อัน}$$

ตัวอย่างที่ 1

$$50 + 100 = 150$$

$$150 - 50 = \dots\dots\dots$$

ตัวอย่างที่ 1

$$50 + 100 = 150$$

$$150 - 50 = \dots\dots\dots 100$$

$$150 - 100 = \dots\dots\dots$$

ตัวอย่างที่ 1

$$50 + 100 = 150$$

$$150 - 50 = \dots\dots\dots 100$$

$$150 - 100 = \dots\dots\dots 50$$

หยุดชั่วคราว (k)

表
数学
代数
计算

ตัวอย่างที่ 2

$$700 + 150 = 850$$

$$850 - 700 = \dots\dots\dots$$

ตัวอย่างที่ 2

$$700 + 150 = 850$$

$$850 - 700 = \dots\dots\dots$$

$$850 - 150 = \dots\dots\dots$$

ตัวอย่างที่ 2

$$700 + 150 = 850$$


$$850 - 700 = \dots\dots\dots$$

$$850 - 150 = \dots\dots\dots$$

- <https://www.youtube.com/watch?v=R7Om2CX4-98>

อ้างอิง

ลำดับการดำเนินการ
Order & Operation



1

() , [] , { }

ทำในวงเล็บก่อนเสมอ

ถ้ามีหลายวงเล็บ ให้ทำที่ละวงเล็บ

2

\times , \div

* มลจากซ้ายไปขวา

3

$+$, $-$

* มลจากซ้ายไปขวา

ถ้าปนกัน

ให้คิดคูณกับหารก่อน