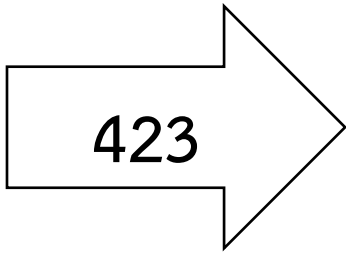


ชื่อ ชั้น เลขที่



ใบงานเรื่อง หลัก ค่าของเลขโดดในแต่ละหลัก

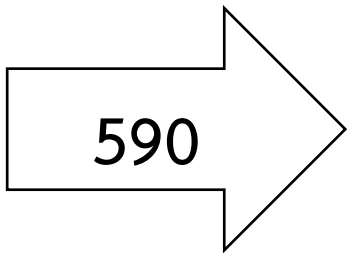
คำชี้แจง ให้นักเรียนเขียนค่าของเลขโดดในแต่ละหลัก



4 อยู่ในหลัก มีค่า

2 อยู่ในหลัก มีค่า

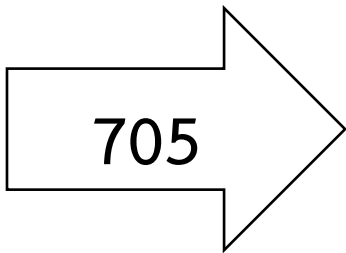
3 อยู่ในหลัก มีค่า



..... อยู่ในหลัก มีค่า

..... อยู่ในหลัก มีค่า

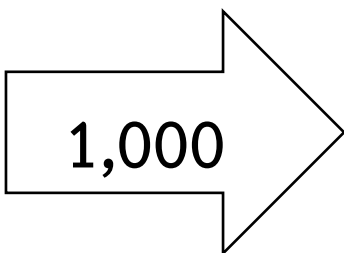
..... อยู่ในหลัก มีค่า



..... อยู่ในหลัก มีค่า

..... อยู่ในหลัก มีค่า

..... อยู่ในหลัก มีค่า




..... อยู่ในหลัก มีค่า

..... อยู่ในหลัก มีค่า

..... อยู่ในหลัก มีค่า

..... อยู่ในหลัก มีค่า



ชื่อ ชั้น..... เลขที่.....



คำชี้แจง ให้นักเรียนบอกหลักและค่าของเลขโดดตามค่าประจำหลักของตัวเลขที่ขีดเส้นใต้

ตัวอย่าง 279

 7 อยู่ในหลัก สิบ มีค่า 70

3. 691

 อยู่ในหลัก มีค่า.....

4. 107

 อยู่ในหลัก มีค่า.....

5. 582

 อยู่ในหลัก มีค่า.....

2. 914

 อยู่ในหลัก มีค่า.....

1. 1,000

 อยู่ในหลัก มีค่า.....

