



การบวกและการลบจำนวนนับไม่เกิน

1,000 และ 0



MATHEMATICS



โดย ครูจันจิราภา พรหมชนะ(ครูกิก)

บวกลบ


แสนสนุก



เลือกคำตอบที่ถูกต้อง




$$324 + 46$$



เลือกคำตอบที่ถูกต้อง




$$462 + 157$$



เลือกคำตอบที่ถูกต้อง



$$443 + 207$$



เลือกคำตอบที่ถูกต้อง




$$138 + 345$$



เลือกคำตอบที่ถูกต้อง




$$820 + 180$$



เลือกคำตอบที่ถูกต้อง




$$567 - 112$$



เลือกคำตอบที่ถูกต้อง




$$854 - 250$$



เลือกคำตอบที่ถูกต้อง



$$399 - 186$$




เลือกคำตอบที่ถูกต้อง



$$815 - 726$$



เลือกคำตอบที่ถูกต้อง



$$906 - 524$$



MATHEMATICS

จบแล้วจ้า

